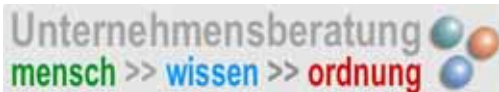
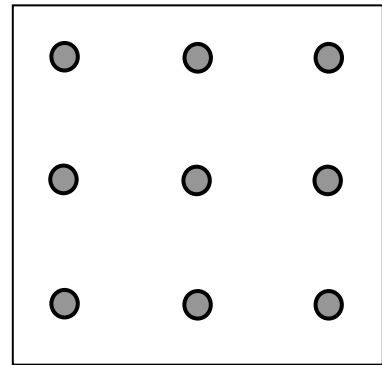


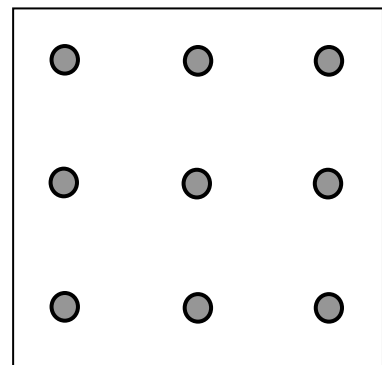
Das 9- Punkte Dilemma

Finden Sie eine Lösung:
Die neun abgebildeten Punkte sind
mit maximal vier Strichen zu verbinden,
ohne den Stift abzusetzen?



Das 9- Punkte Dilemma

Finden Sie eine Lösung:
Die neun abgebildeten Punkte sind
mit maximal vier Strichen zu verbinden,
ohne den Stift abzusetzen?



Das 9- Punkte Dilemma

Finden Sie eine Lösung:
Die neun abgebildeten Punkte sind
mit maximal vier Strichen zu verbinden,
ohne den Stift abzusetzen?

